
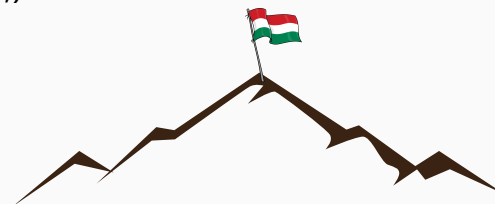




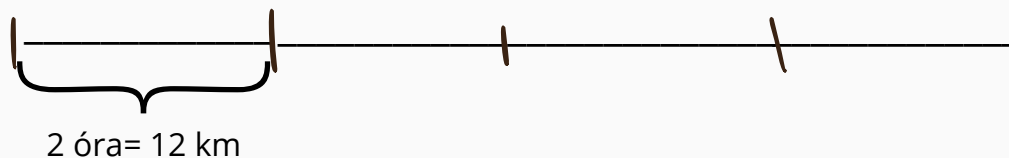
2.

Készítsd el a túraútvonal térképét a mese alapján! Így Liliék biztosan nem fognak eltévedni és ezt neked köszönhetik! ;)



**4.**

Lili és családja 2 óra alatt 12 kilométert tett meg a túra során.
Hány kilométert tettek meg összesen, ha a kirándulás 8 órán át tartott?

Adatok:**Rajz:****Terv:****Számolás:****Ellenőrzés:****Válasz:** _____



8.

Készíts szőláncot gyümölcsök neveivel! Milyen gyümölcsöket vihettek volna magukkal Liliék a kirándulásra? A szőláncod legalább 3 elemből álljon!





9.

Sorolj fel 3 olyan gyümölcsöt, melyek ősszel teremnek!





10.

Készíts illusztrációt a fogalmazásodhoz!